

## Rallye maths 2024 - Consignes

Voici une répartition possible pour les problèmes, sachant que vous êtes libres de proposer à vos élèves les exercices que vous voulez, suivant les niveaux de classe.

	Exercice	GS	CP	CE1	CE2	CM1	CM2	6ème
1	Sauts dans les anneaux							
2	Le bonhomme de neige							
3	Au pied du mur							
4	Léonard et les bonbons							
5	Dominos							
6	Triminos							
7	Drôle de voiture							
8	2024							
9	Bain de couleur							
10	Fête de la musique							
11	Planète additive							
12	Retour à la case départ							
13	Alphabet cistercien							

Certains énoncés sont en couleur, mais peuvent être imprimés en noir et blanc.

Vous êtes libre de proposer les exercices que vous désirez à vos élèves (3 ou 4 par niveau), la répartition du tableau n'est qu'une suggestion.

L'exercice 6, triminos, peut intéresser tous les niveaux de classe, car il y a un nombre certain de solutions... à trouver avec l'aide de tous.

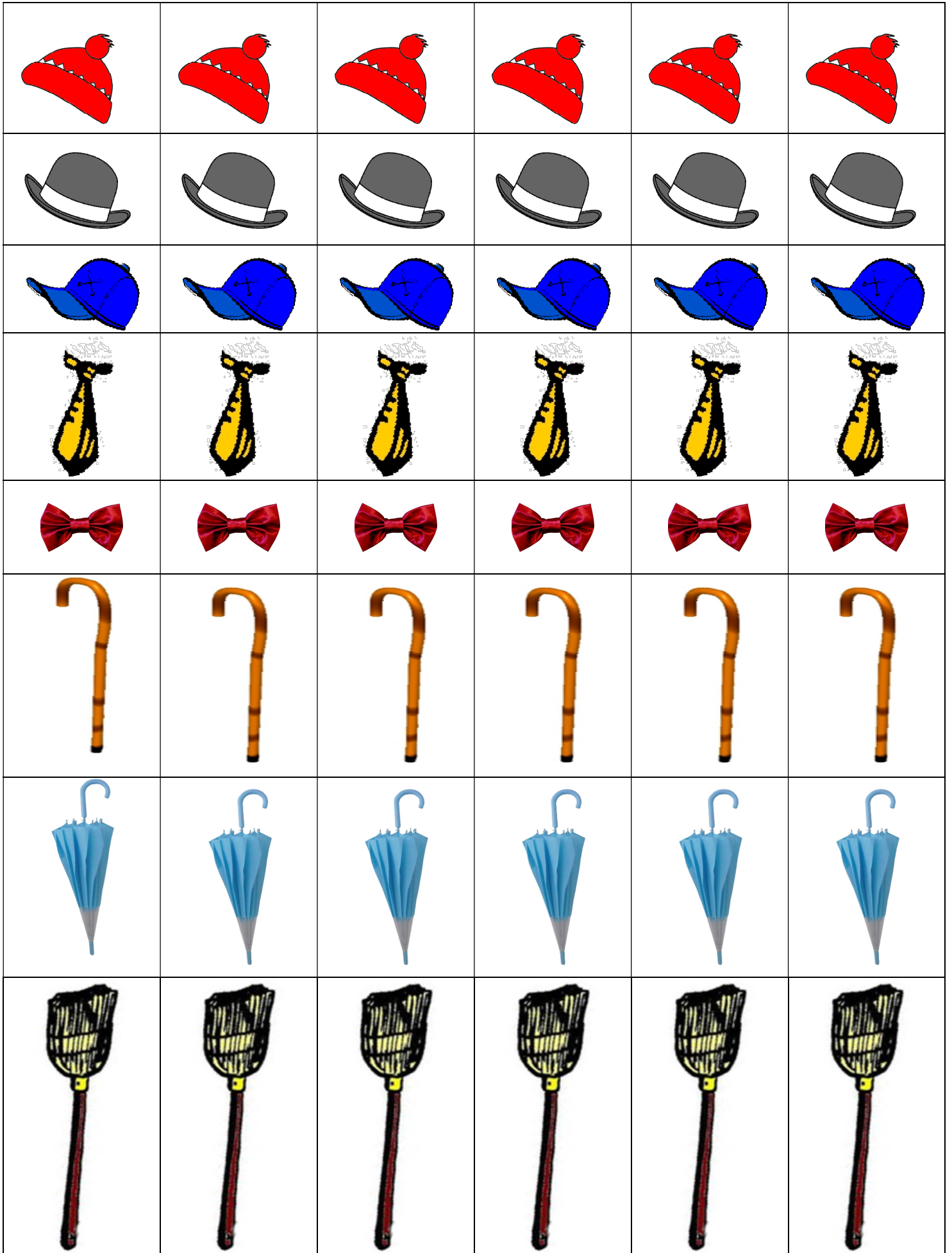
En annexe :

Pour l'exercice 2, le bonhomme de neige, une feuille de bonhommes à photocopier en plusieurs exemplaires, ainsi que les objets à découper.

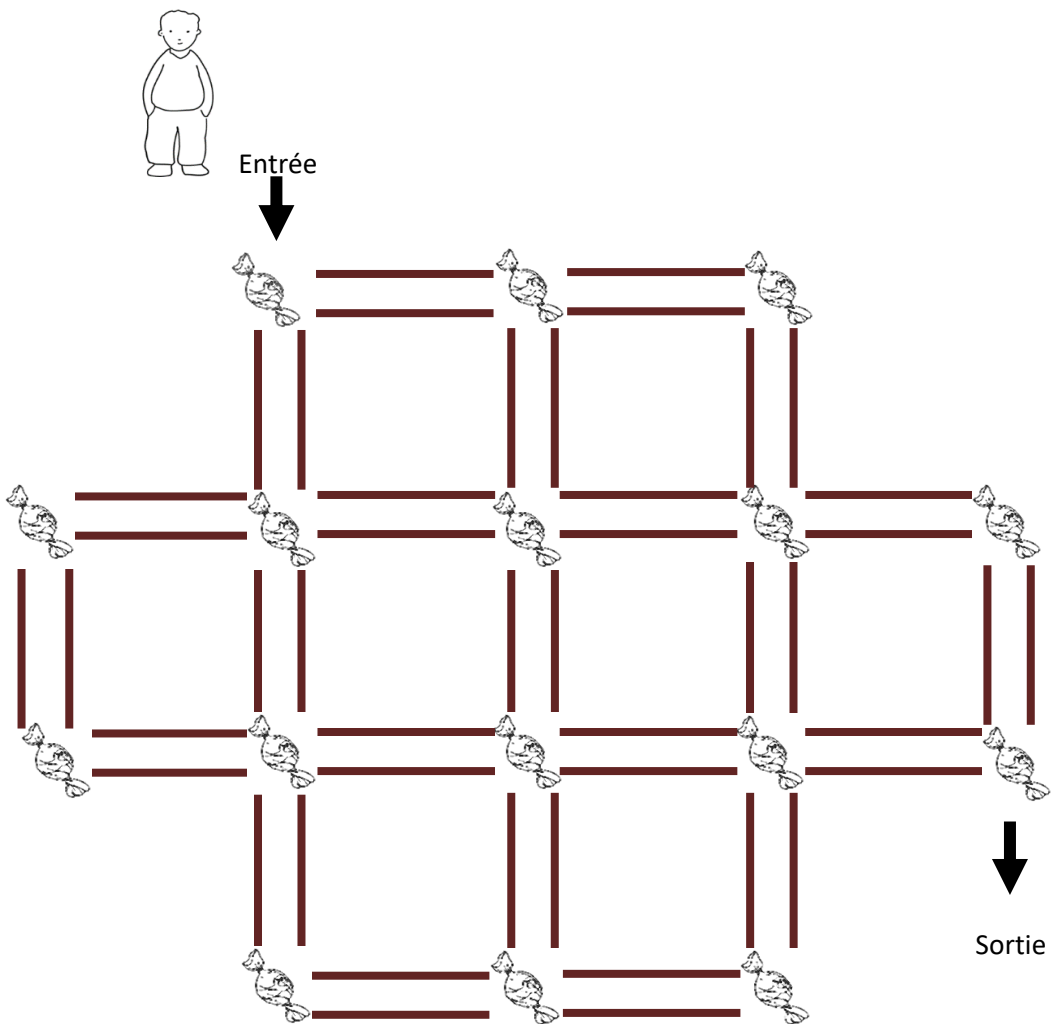
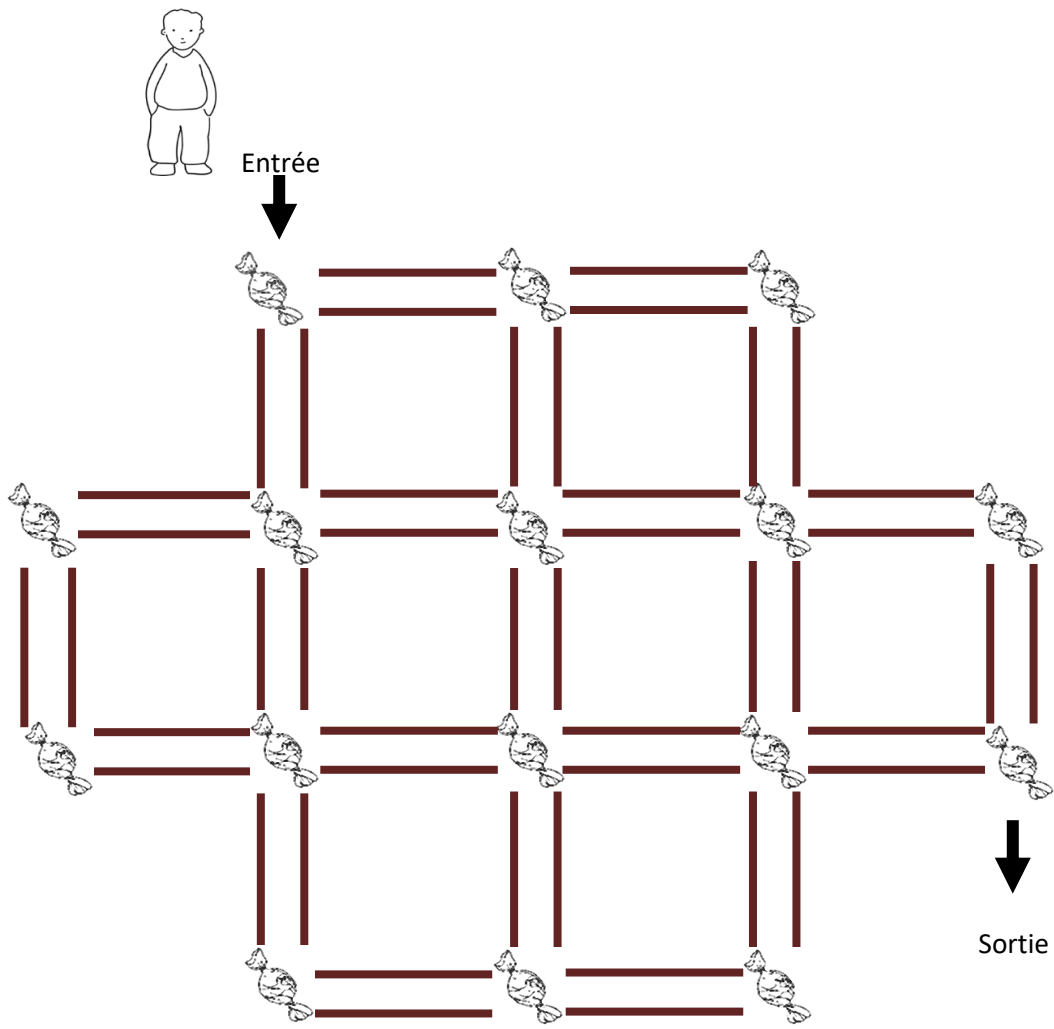
Pour l'exercice 4, une feuille avec deux labyrinthes pour tracer des essais.

Pour les exercices 5 et 6, six grilles sur une page.

Pour l'envoi des réponses, il faut compléter ce formulaire en ligne ([clic](#)). Vous recevrez ensuite les solutions dans les 2/3 jours suivants. N'hésitez pas à nous contacter si vous n'avez rien reçu.







0	5	1	4	1	0
3	2	6	3	4	5
3	1	0	3	4	6
4	6	3	3	2	2
0	2	4	5	3	0
2	3	1	5	2	6

0	5	1	4	1	0
3	2	6	3	4	5
3	1	0	3	4	6
4	6	3	3	2	2
0	2	4	5	3	0
2	3	1	5	2	6

0	5	1	4	1	0
3	2	6	3	4	5
3	1	0	3	4	6
4	6	3	3	2	2
0	2	4	5	3	0
2	3	1	5	2	6

0	5	1	4	1	0
3	2	6	3	4	5
3	1	0	3	4	6
4	6	3	3	2	2
0	2	4	5	3	0
2	3	1	5	2	6

0	5	1	4	1	0
3	2	6	3	4	5
3	1	0	3	4	6
4	6	3	3	2	2
0	2	4	5	3	0
2	3	1	5	2	6

0	5	1	4	1	0
3	2	6	3	4	5
3	1	0	3	4	6
4	6	3	3	2	2
0	2	4	5	3	0
2	3	1	5	2	6